



برای دریافت سوالات دروس دیگر به صورت رایگان به
سایت زیر مراجعه فرمایید


www.20shoo.ir

کلیه حقوق مادی و معنوی این سوالات متعلق به گروه آموزشی
بیست و نوا می باشد و کپی برداری و استفاده بدون ذکر
منبع از لحاظ شرعی و قانونی مجاز نمی باشد



20shoo.ir

Instagram



[@ir20shoo](https://t.me/ir20shoo)

telegram



سوالات تیزهوشان مطالعات اجتماعی نهم سری سوم

- ۱- امتیاز بهره‌برداری از منابع نفتی ایران برای اولین بار در زمان کدام پادشاه به انگلیسی‌ها واگذار شد؟
 نمونه دولتی و تیزهوشان- ۱۳۹۶
 ۱) رضا شاه ۲) ناصرالدین شاه ۳) مظفرالدین شاه ۴) محمدرضا پهلوی
- ۲- کدام ویژگی هویتی انسان با دیگر ویژگی‌ها متفاوت است؟
 نمونه دولتی و تیزهوشان- ۱۳۹۷
 ۱) جنسیت ۲) مکان تولد ۳) تحصیلات ۴) شکل ظاهری
- ۳- مبنای تعیین ساعت و زمان واقعی چیست؟
 نمونه دولتی و تیزهوشان- ۱۳۹۷
 ۱) حرکت وضعی زمین ۲) توافق میان کشورها ۳) موقعیت خورشید در آسمان ۴) حرکت انتقالی زمین
- ۴- کدام یک از گزینه‌های زیر، جزء ملاک‌های اصلی توسعه انسانی نیست؟
 نمونه دولتی و تیزهوشان- ۱۳۹۶
 ۱) آزادی و امنیت ۲) میزان درآمد و رفاه ۳) امید به زندگی ۴) سواد و آموزش
- ۵- کدام یک از کشورهای زیر از پیشگامان استعمار نیست؟
 نمونه دولتی و تیزهوشان- ۱۳۹۷
 ۱) انگلستان ۲) روسیه ۳) فرانسه ۴) اسپانیا
- ۶- یکی از پیشگامان تأسیس مدرسه به سبک اروپایی در ایران، چه کسی بود؟
 نمونه دولتی و تیزهوشان- ۱۳۹۶
 ۱) عباس میرزا ۲) میرزا حسن رشیدیه ۳) سید جمال‌الدین اسدآبادی ۴) میرزا ابوالقاسم فراهانی
- ۷- طبق قرارداد ۱۹۰۷ بین روسیه و انگلستان، خوزستان در کدام دسته قرار گرفت؟
 نمونه دولتی و تیزهوشان- ۱۳۹۶
 ۱) منطقه بی طرف ۲) منطقه نفوذ انگلستان ۳) منطقه نفوذ روسیه ۴) منطقه خودمختار
- ۸- به قواعد و شیوه‌های مورد قبول یک جامعه برای انجام دادن کارهای مختلف می‌گویند.
 نمونه دولتی و تیزهوشان- ۱۳۹۶
 ۱) ارزش ۲) نماد ۳) هنجار ۴) عقاید
- ۹- کدام یک از موارد نام برده شده از لایه‌های خارجی یا بیرونی فرهنگ است؟
 نمونه دولتی و تیزهوشان- ۱۳۹۶
 ۱) هنجارها ۲) عقاید ۳) ارزش‌ها ۴) باورها
- ۱۰- کدام عامل بر آب و هوای کناره‌های کشور کانادا تأثیر می‌گذارد؟
 نمونه دولتی و تیزهوشان- ۱۳۹۶
 ۱) جریان‌های دریایی ۲) ارتفاع از سطح زمین ۳) عرض جغرافیایی ۴) دوری و نزدیکی به دریاها و اقیانوس‌ها

۱۱- آگاهی از اهمیت «نیروی دریایی» و «استفاده از شیوه‌های مسالمت‌آمیز در ارتباط با شورش داخلی»، به ترتیب از ویژگی‌های کدام یک از پادشاهان ایران است؟
 نمونه دولتی و تیزهوشان- ۱۳۹۶

- ۱) نادرشاه افشار - کریم‌خان زند ۲) کریم‌خان زند - نادرشاه افشار ۳) نادرشاه افشار - شاه‌عباس اول ۴) شاه‌عباس اول - کریم‌خان زند

۱۲- در ارتباط با روند تأسیس نظام جمهوری اسلامی ایران به ترتیب، کدام گزینه درست است؟
 نمونه دولتی و تیزهوشان- ۱۳۹۶

- ۱) برگزاری همه‌پرسی تعیین نظام سیاسی، تصویب قانون اساسی، انتخابات اولین دوره ریاست جمهوری، تشکیل مجلس شورای اسلامی و تعیین هیئت دولت
 ۲) تصویب قانون اساسی، برگزاری همه‌پرسی تعیین نظام سیاسی، تشکیل مجلس شورای اسلامی، انتخابات اولین دوره ریاست جمهوری و تعیین هیئت دولت
 ۳) برگزاری همه‌پرسی تعیین نظام سیاسی، انتخابات اولین دوره ریاست جمهوری، تصویب قانون اساسی، تشکیل مجلس شورای اسلامی و تعیین هیئت دولت
 ۴) برگزاری همه‌پرسی تعیین نظام سیاسی، تصویب قانون اساسی، تشکیل مجلس شورای اسلامی، انتخابات اولین دوره ریاست جمهوری و تعیین هیئت دولت

۱۳- یکی از عواملی که موجب ناسازگاری زن و مرد می‌شود، داشتن هنجارها و ارزش‌های متفاوت است. ریشه این مسئله را در چه چیز باید جست‌وجو نمود؟

نمونه دولتی و تیزهوشان- ۱۳۹۶

- ① تفاوت‌های فردی موجود بین زن و شوهر
 ② پرورش زن و شوهر در دو محیط اجتماعی متفاوت
 ③ تعارض نقش‌ها در خانه و محل کار
 ④ عدم شناخت کافی زن و شوهر از حقوق و تکالیف خود

۱۴- حمایت از تشکیل خانواده جزو کدام دسته از حقوق شهروندی محسوب می‌شود؟

نمونه دولتی و تیزهوشان- ۱۳۹۶

- ① حقوق فرهنگی
 ② عدالت قانونی
 ③ تأمین اجتماعی
 ④ عدالت قضایی

۱۵- در اقتصاد، نسبت «ستاندها» به «داده‌ها» چه نامیده می‌شود؟

نمونه دولتی و تیزهوشان- ۱۳۹۶

- ① بهره‌وری
 ② در آمد خالص
 ③ سود
 ④ فرآیند تولید محصول

۱۶- در اول دی ماه طول روز در کدام نیمکره بیشتر است و در مجاورت کدام مدار، خورشید طلوع نمی‌کند؟

نمونه دولتی و تیزهوشان- ۱۳۹۷

- ① نیمکره شمالی - مدار قطبی شمال
 ② نیمکره شمالی - مدار قطبی جنوب
 ③ نیمکره جنوبی - مدار قطبی شمال
 ④ نیمکره جنوبی - مدار قطبی جنوب

۱۷- کدام گزینه زیر درست می‌باشد؟

نمونه دولتی و تیزهوشان- ۱۳۹۶

- ① در قرارداد ۱۹۰۷، یزد جزء منطقه بی طرف بود.
 ② همزمان با تأسیس حکومت قاجار، انقلاب صنعتی رخ داد.
 ③ آیت الله بهبهانی به دست مشروطه‌خواهان به شهادت رسید.
 ④ در جنگ جهانی اول انگلستان، روسیه و عثمانی نیروهای خود را وارد ایران کردند.

۱۸- ترتیب زمانی حوادث زیر در کدام گزینه درست است؟

نمونه دولتی و تیزهوشان- ۱۳۹۶

- ① مقاله توهین آمیز به امام خمینی، قیام ۱۹ دی ماه مردم قم، فرار شاه از ایران
 ② نخست‌وزیری سید ضیاءالدین طباطبایی، تشکیل مجلس مؤسسان، آغاز جنگ جهانی اول
 ③ فرماندوم انقلاب سفید، تصویب انجمن‌های ایالتی و ولایتی، تبعید امام خمینی (ره)
 ④ تبعید دکتر مصدق، کودتای ۲۸ مرداد، حمله آلمان به لهستان

۱۹- در کدام یک از رویدادهای زیر، علت مخالفت امام خمینی (ره)، تخریب ارزش‌های اسلامی بوده است؟

نمونه دولتی و تیزهوشان- ۱۳۹۹

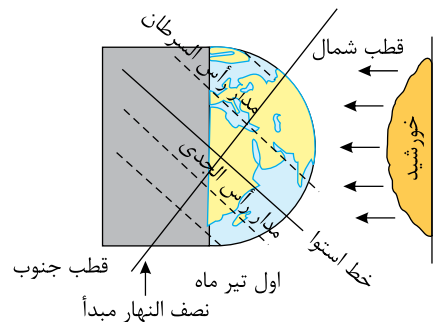
- ① قیام ۱۵ خرداد
 ② تصویب لایحه کاپیتولاسیون
 ③ تصویب‌نامه انجمن‌های ایالتی و ولایتی
 ④ اجرای اصول شش‌گانه

۲۰- مردم ایران در انتخاب کدام یک از مقامات زیر به‌طور مستقیم نقش دارند؟

نمونه دولتی و تیزهوشان- ۱۳۹۶

- ① رئیس قوه مقننه
 ② رئیس قوه مجریه
 ③ رئیس قوه قضاییه
 ④ رهبری

نمونه دولتی و تیزهوشان- ۱۳۹۶



نمونه دولتی و تیزهوشان- ۱۳۹۷

- ① اول بهار و اول پاییز
 ② اول دی و اول تیر
 ③ اول تابستان و اول بهار
 ④ اول پاییز و اول تابستان

۲۱- باتوجه به تصویر، کدام مفهوم جغرافیایی زیر دریافت می‌شود؟

- ① انقلاب تابستانی در نیمکره شمالی
 ② انقلاب تابستانی در نیمکره جنوبی
 ③ انقلاب زمستانی در نیمکره شمالی
 ④ انقلاب زمستانی در نیمکره شرقی

۲۲- در کدام مواقع از سال درازی روز و شب با هم برابر می‌شود؟

- ① اول بهار و اول پاییز
 ② اول تابستان و اول بهار
 ③ اول دی و اول تیر
 ④ اول پاییز و اول تابستان

۲۳ - کدام مورد زیر از عوامل خارجی نابرابری در جهان می‌باشد؟

نمونه دولتی و تیزهوشان - ۱۳۹۶

- ۱) استعمار
 ۲) بی‌سوادی و ناآگاهی مردم
 ۳) نبودن وحدت و مشارکت بین مردم
 ۴) فرهنگ و باورهای غلط

۲۴ - در دوره صفوی به کدام یک از علوم زیر توجه بسیاری می‌شد؟

نمونه دولتی و تیزهوشان - ۱۳۹۷

- ۱) ریاضیات
 ۲) طب و نجوم
 ۳) فقه و حدیث
 ۴) ادبیات

۲۵ - کدام دسته‌بندی مربوط به متحدین در جنگ جهانی اول می‌باشد؟

نمونه دولتی و تیزهوشان - ۱۳۹۹

- ۱) اتریش، آلمان، روسیه، عثمانی
 ۲) عثمانی، ایتالیا، آلمان، آمریکا
 ۳) آلمان، ایتالیا، ژاپن
 ۴) آلمان، ایتالیا، اتریش، مجارستان، عثمانی

۲۶ - اولین اقدام برای برپایی نظام جمهوری اسلامی ایران چه بود؟

نمونه دولتی و تیزهوشان - ۱۳۹۶

- ۱) انتخابات ریاست جمهوری
 ۲) تدوین و تصویب قانون اساسی
 ۳) انتخابات مجلس شورای اسلامی
 ۴) همه‌پرسی تعیین نظام سیاسی

۲۷ - کدام یک از جملات زیر صحیح است؟

نمونه دولتی و تیزهوشان - ۱۳۹۹

- ۱) امضای حکم رئیس‌جمهور توسط رهبر را تحلیف می‌گویند.
 ۲) چهار عنصر اصلی ارتباط شامل پیام، فرستنده و گیرنده و بازخورد است.
 ۳) بیشترین درآمد دولت بعد از صادرات نفت، سرمایه‌گذاری در صنایع بزرگ است.
 ۴) نظارت بر درآمدها و هزینه‌های دولت برعهده مجلس شورای اسلامی است.

۲۸ - ویژگی زیر مربوط به کدام نوع زیست‌بوم می‌باشد؟

این زیست‌بوم به داشتن جنگل‌های مخروطیان و سوزنی‌برگ‌ها معروف است. درختانی مانند کاج و سرو در این ناحیه همیشه سبزند و این زیست‌بوم در قاره‌های آسیا، اروپا و آمریکای شمالی گسترش یافته است.

نمونه دولتی و تیزهوشان - ۱۳۹۶

- ۱) تایگا
 ۲) توندرا
 ۳) ساوان
 ۴) جنگل‌های بارانی استوایی

۲۹ - انقلاب کبیر فرانسه، در زمان کدام یک از پادشاهان زیر به وقوع پیوست؟

نمونه دولتی و تیزهوشان - ۱۳۹۷

- ۱) لطفعلی‌خان زند
 ۲) کریم‌خان زند
 ۳) احمد شاه
 ۴) محمدعلی شاه

۳۰ - کدام عبارت در مورد ایل قاجار نادرست است؟

نمونه دولتی و تیزهوشان - ۱۳۹۹

- ۱) در دوره ناصرالدین‌شاه، انگلیسی‌ها قسمت شرقی سیستان و بلوچستان را از ایران جدا کردند.
 ۲) دوره حکومت فتحعلی‌شاه، همزمان با آغاز نفوذ و دخالت‌های کشور روسیه، انگلستان و فرانسه بوده است.
 ۳) پس از عهدنامه ترکمانچای، ایران از داشتن کشتی جنگی در دریای مازندران محروم شد.
 ۴) نهضت مشروطه موجب رها شدن کشور از چنگ استبداد داخلی و سلطه خارجی شد.

۳۱ - سازمان ساواک در زمان کدام شاه پهلوی و پس از وقوع چه واقعه‌ای تشکیل شد؟

نمونه دولتی و تیزهوشان - ۱۳۹۷

- ۱) رضا شاه - کودتای ۳ اسفند ۱۲۹۹
 ۲) رضا شاه - کودتای ۲۸ مرداد ۱۳۳۲
 ۳) محمد رضا شاه - کودتای ۳ اسفند ۱۲۹۹
 ۴) محمد رضا شاه - کودتای ۲۸ مرداد ۱۳۳۲

۳۲ - کدام یک از گزینه‌های زیر درست است؟

نمونه دولتی و تیزهوشان - ۱۳۹۷

- ۱) آیت‌الله مدرس و دکتر مصدق با قرارداد ۱۹۱۹ به مخالفت برخاستند.
 ۲) امتیاز بهره‌برداری از منابع نفت ایران در زمان ناصرالدین شاه به انگلیسی‌ها واگذار شد.
 ۳) طبق عهدنامه گلستان، ایالت‌های گرجستان و داغستان و شهرهای باکو و گنجه از ایران جدا شدند.
 ۴) محمد رضا شاه بعد از ملی شدن نفت به تأسیس ساواک اقدام نمود.

۳۳- کدام گزینه به ترتیب، روند تأسیس حکومت جمهوری اسلامی را بعد از سرنگونی رژیم پهلوی نشان می‌دهد؟ نمونه دولتی و تیزهوشان- ۱۳۹۷

- ① همه پرسى تعیین نظام سیاسى، تدوین و تصویب قانون اساسى جدید، انتخابات مجلس شورای اسلامى، انتخابات ریاست جمهوری و تعیین هیئت دولت
 ② همه پرسى تعیین نظام سیاسى، تدوین و تصویب قانون اساسى جدید، انتخابات ریاست جمهوری، انتخابات مجلس شورای اسلامى و تعیین هیئت دولت
 ③ تدوین و تصویب قانون اساسى جدید، همه پرسى تعیین نظام سیاسى، انتخابات ریاست جمهوری، انتخابات مجلس شورای اسلامى و تعیین هیئت دولت
 ④ همه پرسى تعیین نظام سیاسى، تدوین و تصویب قانون اساسى جدید، انتخابات ریاست جمهوری، تعیین هیئت دولت و انتخابات مجلس شورای اسلامى

۳۴- آرتین ۱۵ ساله و کلاس نهم و دارای بدنى ورزیده و قوی می‌باشد و علاقه‌مند به ورزش کشتی است. او در گروه سرود مدرسه حضور دارد، کدام گزینه به ویژگی هویتی او اشاره دارد؟ نمونه دولتی و تیزهوشان- ۱۳۹۶

- ① علاقه‌مند بودن ② ۱۵ ساله بودن ③ ورزشکار بودن ④ عضویت در گروه سرود

۳۵- «تأثیر هویت اجتماعى بر هویت فردى» در کدام گزینه صحیح‌تر به نظر می‌رسد؟ نمونه دولتی و تیزهوشان- ۱۳۹۷

- ① افراد خوش‌بین، در تصمیم‌گیری‌های جمعی از اعتماد به نفس بیشتری برخوردارند.
 ② افراد افسرده با تقویت عقاید دینی، می‌توانند عوارض این بیماری را کاهش دهند.
 ③ مددکاران کمیته امداد، به تدریج افراد صبورى می‌شوند.
 ④ ورزشکاران، بیشتر به کارهای تیمی علاقه دارند.

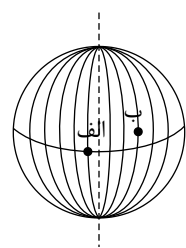
۳۶- «حمایت از تعلیم و تربیت شایسته» و «حق دادخواهی» به ترتیب مربوط به کدام موارد از حقوق شهروندی است؟ نمونه دولتی و تیزهوشان- ۱۳۹۷

- ① فرهنگى - برخورداری از عدالت قضایی ② برخورداری از عدالت قانونی - حقوق فرهنگی
 ③ برخورداری از رفاه و تأمین اجتماعى - مشارکت سیاسى ④ مشارکت سیاسى - برخورداری از عدالت قضایی

۳۷- اگر در شهر A که در ۴۵ درجه غربی قرار دارد، ساعت ۸ صبح باشد، در همان لحظه در شهر B که در ۱۵ درجه غربی قرار دارد، ساعت چند خواهد بود؟ نمونه دولتی و تیزهوشان- ۱۳۹۶

- ① ۶ صبح ② ۱۰ صبح ③ ۱۳ بعدازظهر ④ ۱۴ بعدازظهر

۳۸- اگر در شهر «الف» بر روی نصف‌النهار ۱۵° غربی ساعت ۸ صبح باشد، در شهر «ب» که بر روی نصف‌النهار ۴۵° شرقی قرار دارد، ساعت چند است؟ نمونه دولتی و تیزهوشان- ۱۳۹۶



- ① ۴ صبح ② ۱۲ ظهر ③ ۱۰ صبح ④ ۱۴ بعدازظهر

۳۹- ارتباط کدام گزینه با توجه به شرایط آب و هوایی مرداد ماه «یزد»، درست است؟ نمونه دولتی و تیزهوشان- ۱۳۹۷

- ① پوشیدن لباس تابستانی در سانتیاگو (پایتخت کشور شیلی در آمریکای جنوبی)
 ② پوشیدن لباس زمستانی در ژوهانسبورگ (پایتخت کشور آفریقای جنوبی در آفریقا)
 ③ پوشیدن لباس زمستانی در پاریس (پایتخت کشور فرانسه در اروپا)
 ④ پوشیدن لباس تابستانی در ولینگتن (پایتخت کشور جزیره‌های نیوزلند واقع در اقیانوس آرام جنوبی)

۴۰- با از بین رفتن کدام یک از جنگل‌ها، آب و هوای کره زمین گرم‌تر شده و رطوبت لایه تروپوسفر تقریباً تا ۵۰ درصد کاهش می‌یابد؟ نمونه دولتی و تیزهوشان- ۱۳۹۶

- ① مخروطی ② استوایی ③ پهن‌برگ ④ مدیترانه‌ای

۴۱- کدام دسته از عوامل زیر در سنجش سطح میزان درآمد و رفاه به کار می‌روند؟ نمونه دولتی و تیزهوشان- ۱۳۹۷

- ① درآمد کافی - بهداشت - پوشاک مناسب ② وسایل زندگی مناسب - شغل مناسب - قدرت خرید
 ③ تفریحات کافی - تعداد سال‌های تحصیلی - خوراک ④ امکانات رفاهی - مسکن - آموزش

۴۲- رسمی کردن مذهب شیعه، تثبیت حکومت، اخراج پرتغالی‌ها از ایران به ترتیب، در زمان کدام شاهان صفوی صورت گرفت؟

- ۱) شاه عباس - شاه تهماسب - شاه سلطان حسین
 ۲) شاه اسماعیل - شاه تهماسب - شاه عباس
 ۳) شاه عباس - شاه اسماعیل - شاه تهماسب
 ۴) شاه تهماسب - شاه عباس - شاه اسماعیل

۴۳- کدام یک از موارد زیر از دلایل ورشکستگی تولیدکنندگان و بازرگانان ایرانی در زمان ناصرالدین شاه نبود؟

- ۱) واگذاری امتیازات اقتصادی به بیگانگان
 ۲) عدم حمایت مردم ایران از تولیدات داخلی و خرید کالاهای خارجی
 ۳) تأسیس شعبه‌های شرکت‌های خارجی در ایران و فعالیت آنها
 ۴) واردات کالاهای خارجی بدون پرداخت حقوق گمرکی یا پرداخت ناچیز آن

۴۴- علت قیام ۱۵ خرداد سال ۱۳۴۲ چه بود؟

- ۱) مخالفت با تصویب نامه انجمن‌های ایالتی و ولایتی
 ۲) مخالفت با کاپیتولاسیون
 ۳) مخالفت با همه‌پرسی اصول شش‌گانه
 ۴) سخنرانی امام خمینی (ره) در مدرسه فیضیه و دستگیری ایشان

۴۵- در سال ۱۳۵۸ بعد از همه‌پرسی تأیید قانون اساسی، کدام انتخابات برگزار شد؟

- ۱) اولین دوره ریاست جمهوری
 ۲) اولین دوره مجلس شورای اسلامی
 ۳) اولین دوره مجلس خبرگان قانون اساسی
 ۴) اولین دوره شوراهای اسلامی شهر و روستا

۴۶- کدام یک از موارد زیر از لایه‌های خارجی فرهنگ نیست؟

- ۱) گویش محلی
 ۲) قوانین ازدواج
 ۳) صداقت
 ۴) مناسک مذهبی

۴۷- خداوند در سوره شورا، آیه ۳۸ می‌فرماید: «و در امورشان با یکدیگر مشورت می‌کنند.» معنی و مفهوم این آیه به محتوای کدام یک از عوامل مؤثر در بهره‌وری اشاره دارد؟

- ۱) انجام دادن کارها به صورت آگاهانه و عادلانه
 ۲) جلوگیری از زیاده‌روی و اسراف و اتلاف منابع
 ۳) استفاده صحیح از امکانات و نعمت‌های الهی
 ۴) صرفه‌جویی و کاهش هزینه‌ها

۴۸- اگر یک شهر بر روی نصف‌النهار ۴۹ درجه شرقی باشد، اختلاف ساعت این شهر با نصف‌النهار مبدأ چند ساعت است و ساعت آن نسبت به نصف‌النهار مبدأ جلوتر یا عقب‌تر می‌باشد؟

- ۱) ۳ ساعت و ۱۶ دقیقه - جلوتر
 ۲) ۳ ساعت و ۲۶ دقیقه - عقب‌تر
 ۳) ۳ ساعت و ۲۶ دقیقه - جلوتر
 ۴) ۳ ساعت و ۱۶ دقیقه - عقب‌تر

۴۹- شهر «A» روی نصف‌النهار ۳۰ درجه شرقی و شهر «B» روی نصف‌النهار ۷۵ درجه شرقی واقع شده است. الف) این دو شهر چند ساعت با هم اختلاف دارند؟

- ب) اگر در شهر «B» ساعت ۱۰ صبح باشد، در شهر «A» ساعت چند است؟
 ۱) ۳ ساعت - ۱۳
 ۲) ۳ ساعت - ۷ صبح
 ۳) ۷ ساعت - ۱۷
 ۴) ۴ ساعت - ۶ صبح

۵۰- جهت جریان باد چگونه است؟

- ۱) از جایی که فشار بیشتری دارد، به سمت جایی که فشار کمتری دارد.
 ۲) از جایی که فشار کمتری دارد، به سمت جایی که فشار بیشتری دارد.
 ۳) از جایی که فشار بیشتری دارد، به سمت بالا.
 ۴) از جایی که فشار کمتری دارد، به سمت پایین.

۵۱- کدام نوع مهاجرت زیر با سایر مهاجرت‌ها تفاوت دارد؟

- ۱) مردم سوریه به کشورهای اروپایی
 ۲) فلسطینی‌ها به لبنان
 ۳) مردم اروپا به آمریکای شمالی
 ۴) افغان‌ها به ایران

۵۲- چند مورد از اتفاقات سیاسی زیر، مربوط به دوره پس از درگذشت مظفرالدین شاه می‌باشد؟

«امضای فرمان مشروطه - به توپ بسته شدن مجلس - فلک کردن بازرگانان - تحصن علما در حرم عبدالعظیم (ع) - شهادت شیخ فضل‌الله نوری - قیام ستارخان و باقرخان»

- ۱) دو مورد
 ۲) سه مورد
 ۳) چهار مورد
 ۴) پنج مورد

نمونه دولتی و تیزهوشان- ۱۳۹۶

۵۳- در کدام گزینه، هر دو رویداد تاریخی ذکر شده سبب تغییر «شکل» حکومت در ایران شده است؟

- ① انجام رفراندوم انقلاب سفید - صدور فتوای تحریم تنباکو
 ② امضای فرمان مشروطیت - تصویب نامه انجمن‌های ایالتی و ولایتی
 ③ برگزاری همه‌پرسی فروردین ۱۳۵۸ - برکناری احمدشاه در سال ۱۳۰۴
 ④ تصویب قانون ملی شدن صنعت نفت - وقوع کودتای مرداد ۱۳۳۲

نمونه دولتی و تیزهوشان- ۱۳۹۶

۵۴- لایه‌های فرهنگ در کدام گزینه به درستی آمده است؟

- ① نمادها، ارزش‌ها، هنجارها
 ② نمادها، هنجارها، ارزش‌ها، عقاید
 ③ نمادها، خرده فرهنگ‌ها، ارزش‌ها
 ④ خرده فرهنگ‌ها، نمادها، عقاید، هنجارها

۵۵- این سخن از کدام شخصیت انقلابی است؟ «ایرانیان از دین اسلام نیرو و حیات گرفتند و هم نیرو و حیات خود را صرف خدمت به آن کردند».

نمونه دولتی و تیزهوشان- ۱۳۹۷

- ① دکتر بهشتی
 ② استاد مطهری
 ③ آیت‌الله طالقانی
 ④ دکتر باهنر

نمونه دولتی و تیزهوشان- ۱۳۹۶

۵۶- علی در نقطه $3^{\circ}N$ قرار دارد. او تصمیم می‌گیرد به مسافرت برود. پس از رسیدن به مقصد متوجه می‌شود که خورشید

۴ ساعت در شهر مقصد زودتر طلوع می‌کند. مختصات شهری که علی در آن قرار دارد، کدام گزینه می‌تواند باشد؟

- ① $5^{\circ}N$ $2^{\circ}E$
 ② $3^{\circ}N$ $4^{\circ}E$
 ③ $3^{\circ}S$ $8^{\circ}W$
 ④ $3^{\circ}N$ $8^{\circ}W$

۵۷- اگر در شهر نیویورک که در 75° درجه طول جغرافیایی غربی قرار دارد ساعت ۷ صبح باشد، در همان لحظه در شهر لندن چند ساعت خواهد بود؟

نمونه دولتی و تیزهوشان- ۱۳۹۷

- ① ۱۲ ظهر
 ② ۱۱ شب
 ③ ۲ بامداد
 ④ ۱۰ صبح

۵۸- کوهنورد ایرانی آقای عظیم قیچی‌ساز، پس از فتح قله «لوتسه» بدون کپسول اکسیژن، از ارتفاع حدود ۸۵۰۰ متری با دمای 20° - درجه، به کمپ

نمونه دولتی و تیزهوشان- ۱۳۹۷

استراحت گروه خود در ارتفاع ۴۰۰۰ متری، باز می‌گردد، در این صورت در محل کمپ، دما چند درجه است؟

- ① 2°
 ② 4°
 ③ 5°
 ④ 7°

۵۹- در زیست‌بوم بارندگی بین 250 تا 500 میلی‌متر و زمین همیشه مرطوب است و زیست‌بوم منطقه علفزارها با درختان تک

و منفرد بوده و بخش عمده‌ای از زیست‌بوم در مجاورت مدار رأس‌السرطان و رأس‌الجدی قرار گرفته و اغلب داروهایی که امروزه برای

نمونه دولتی و تیزهوشان- ۱۳۹۶

معالجه سرطان استفاده می‌شود از درختان و گیاهان زیست‌بوم به دست می‌آید.

- ① ساوان - تایگاه - بیابان - جنگل‌های بارانی استوایی
 ② تایگا - ساوان - بیابان - جنگل‌های بارانی استوایی
 ③ تایگا - ساوان - جنگل‌های بارانی استوایی - بیابان
 ④ ساوان - تایگا - جنگل‌های بارانی استوایی - جنگل‌های بارانی استوایی

۶۰- «آقای سعادت بدون اینکه اطلاعات کافی داشته باشد، یخچال خانه‌اش را تعمیر کرده است، در نتیجه، یخچال خراب‌تر شده و هزینه بیشتری باید

نمونه دولتی و تیزهوشان- ۱۳۹۷

صرف آن شود»، او به کدام یک از راهکارهای افزایش بهره‌وری توجه نکرده است؟

- ① نظم‌تر تیب و انضباط در کارها
 ② انجام دادن کارها از روی آگاهی
 ③ تنظیم جدول بودجه‌بندی اقتصادی
 ④ اصلاح عادت‌های غلط مصرفی